



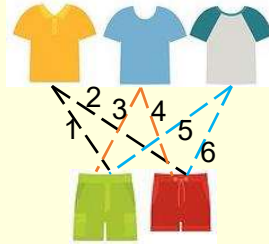
Сурагчийн нэр:

Эхэлсэн: он сар өдөр




Хоёр олонлогоос хос үүсгэх

Хүү хоёр өмд, 3
цамцыг хэдэн янзаар
өмсөж болох вэ?



Хүү 2 өмд, 3
цамцыг 6 янзаар
өмсөж болно.

1 Охин 3 юбка, 2 цамцыг хэдэн янзаар өмсөж болох вэ? Яаж, яаж өмсөж болохыг хайчилж наагаарай.




Охин 3 юбка, 2 цамцыг янзаар өмсөж болно.

2 Охин шар, улаан, цэнхэр сарнайг цагаан, ягаан лили цэцэгтэй хэдэн янзаар хослуулан боож болов вэ? Нааж үзүүлээрэй.



Охин 3 сарнай, 2 лили цэцгийг янзаар боож болно.

3 Хүү улаан, цагаан, хар цамцыг ногоон, шар өмдтэй хэдэн янзаар хослуулан өмсөж болох вэ? Будаарай.



Дууссан:сарөдөр

Даалгавар	1	2	3
Өөрийн үнэлгээ			





Сурагчийн нэр:

Эхэлсэн: он сар өдөр



Хоёр олонлогоос хос үүсгэх

Охин улаан, цэнхэр бөгжөө шар, ягаан зүүлттэй хэдэн янзаар хослуулан өмсөж болох вэ?

1. улаан бөгж – шар зүүлт
2. улаан бөгж – ягаан зүүлт
3. цэнхэр бөгж – шар зүүлт
4. цэнхэр бөгж – ягаан зүүлт

- 1) Хүүд 2, 4 харин охинд 3, 6 гэсэн цифрүүд байв. Хүү, охин хоёр цифрүүдээ ашиглан ямар, ямар 2 оронтой тоо зохиож болох вэ?

- 2) Хүү улаан, ногоон малгайг хар, цагаан, цэнхэр өнгийн ороолттой хэдэн янзаар хослуулан өмсөж болох вэ?

- 3) Хүү өглөөний цайндаа жүүс, цай болон өндөг, талх, боорцгийг хэдэн хэдэн янзаар хослуулан идэж болох вэ?

- 4) Охин цэцэгтэй, хээтэй 2 даашинзаа хар, улаан, ногоон гуталтай хэдэн янзаар хослуулан өмсөж болох вэ?

- 5) Охин улаан, цэнхэр, ногоон малгайг цагаан, хар гуталтай хэдэн янзаар хослуулан өмсөж болох вэ?



Даалгавар	1	2	3	4	5
Өөрийн үнэлгээ					



Сурагчийн нэр:

Эхэлсэн: он сар өдөр



Нэг олонлогоос хос үүсгэх

Наран, Саран, Үжин, Мандах нар хос хосоороо баг болов. Хэдэн янзаар баг болж болох вэ?

Наран, Саран

Саран, Үжин

Наран, Үжин


Саран, Мандах

Наран, Мандах

Үжин, Мандах

6 янзаар баг болж болно.

1 Хүү цэнхэр, улаан, ногоон, шар бөмбөгийг хэдэн янзаар барьж болох вэ? Хүүгийн гарт байгаа дугуй дүрсийг будаарай.



2 Гэрэлээ, Болороо, Баяраа нар хос хосоороо баг болов. Хэн хэнтэйгээ баг болж болох вэ? Нааж үзүүлээрэй.

3 Дорж, Гэрэл, Бат нар шатар тоглох болов. Хэдэн янзаар тоглож болох вэ? Наагаарай.

Дууссан:сарөдөр



Даалгавар	1	2	3	4
Өөрийн үнэлгээ	😊	😊	😊	😊



2.



Гэрэл

Гэрэл

Болор



Баяр

Баяр



Болор

3.



Дорж

Дорж

Бат



Бат



Гэрэл

Гэрэл



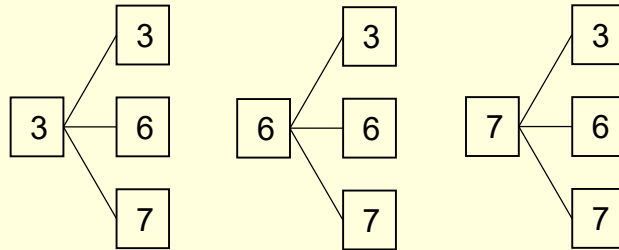
Сурагчийн нэр:

Эхэлсэн: он сар өдөр



Нэг олонлогоос хос үүсгэх

3, 6, 7 гэсэн цифрүүдээр хоёр оронтой хэдэн тоо зохиож болох вэ?



1) 5, 6, 7 гэсэн цифрүүдээр хоёр оронтой тоо хэдийг зохиож болох вэ?

2) 7, 9, 0 гэсэн цифрүүдээр хоёр оронтой тоо хэдийг зохиож болох вэ?

3) Охин хоёр жимстэй зайрмаг авахаар болов. Дараах жимснүүдээс хэдэн янзаар сонгож болох вэ?

Гүзээлзгэнэ, цэцгий, нимбэг, манго

4) Хүү бөмбөгөө 2 өнгөөр будахаар болов. Дараах өнгөнүүдийг хэдэн янзаар хослуулж болох вэ?

улаан, хар, шар, цэнхэр

5) 2, 5, 7 цифрүүдээр 2 оронтой тоо хэдийг зохиож болох вэ? цифр давтагдахгүй.

Дууссан:сарөдөр



Даалгавар	1	2	3	4	5
Өөрийн үнэлгээ					